



أجب عن الأسئلة الآتية :

## السؤال الأول

35

أولاً : أكمل العبارات الآتية بكلمات مناسبة :

- 1 يقع وادي حام في دولة .....
- 2 من الحدود البرية الخارجية التي لا تتطابق مع ظواهر طبيعية الحدود بين سوريا و .....
- 3 اتخذت الأراضي العربية شكلها الحالي تقريبا في الزمن الجيولوجي .....
- 4 يقع أقصى امتداد للوطن العربي غربا عند .....
- 5 تقع حرة الرحاة بين المدينة المنورة وشمال مدينة .....
- 6 دائرة العرض الرئيسة التي تمر جنوب الوطن العربي .....

ثانياً : بم تفسر الآتي :

- 7 - تراجع أهمية موقع الوطن العربي عام 1498م.
- 8 - أهمية تكوينات الزمن ما قبل الكامبري (الأركي) .
- 9 - تعد الحدود المائية في الوطن العربي أفضل أنواع الحدود من حيث الفصل .
- 10 - استجابة صخور الكتلة الجندوانية للحركات الانكسارية العنيفة.

ثالثاً :

11 - سجل أبرز الفروق بين جبال بلاد المغرب العربي وجبال البحر الأحمر وفق معطيات الجدول الآتي:

وجه الفرق	جبال بلاد المغرب العربي	جبال البحر الأحمر
الاتجاه ( الامتداد )		
نوع الجبال ( من حيث النشأة )		
أعلى قممها الجبلية		

• هات دليلاً واحداً على كل مما يأتي :

12 نشاط عوامل التعرية من نحت ونقل وترسيب في الزمن الثاني .

.....

13 الجهود التي تبذلها دولة الإمارات العربية المتحدة لاستعادة جزرها المحتلة ( طناب الكبرى والصغرى وأبو موسى).

.....

14 تتعدد الأنهار التي تجري في سهول المحيط الأطلنطي .

.....

السؤال الثاني

35

أولاً: 15 - انسب التكوينات والظواهر الجغرافية الآتية إلى الزمن الذي تنتمي إليه في الجدول الآتي:

(الجبس - الجرانيت - تبستي - البحيرات المالحة الجافة - رواسب الفوسفات)

الزمن	الأركي	الأول	الثاني	الثالث	الرابع
التكوينات والظواهر					

ثانياً : وضح نتيجة واحدة ترتبت على الوطن العربي لكل مما يأتي :

16- تنوع الصخور.

.....

17 - توسط مواقع إنتاج النفط العربي بالنسبة لقارات العالم .

.....

18 - وقوع الوطن العربي بين إقليمين مختلفين من حيث الظروف الطبيعية والمناخية .

.....

19 - انقطاع الأمطار في نهاية العصر المطير .

.....

ثالثاً :

20- اكتب اثنين لكل مما يأتي :

▪ الأهداف الرئيسية من دراسة بنية الوطن العربي .

.....

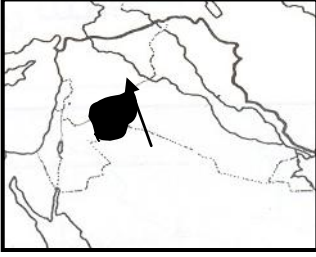
.....

▪ مزايا وخصائص أشكال التضاريس في الوطن العربي.

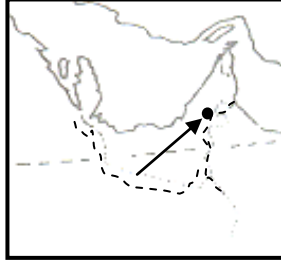
.....

.....

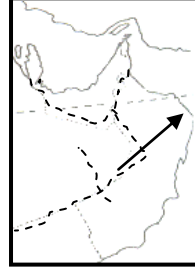
21- أمعن النظر في الأشكال الآتية ، ثم سجل ما يشير إليه السهم في كل مما يأتي :




- هضبة .....



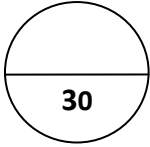
- واحة بدولة الإمارات  
العربية المتحدة .....



- أقصى امتداد للوطن  
العربي شرقاً .....



- نسبة مساحة الجنح الآسيوي  
من الوطن العربي .....



السؤال الثالث

أولاً : وضح المقصود بالمفاهيم والمصطلحات الآتية :

22 - العرق :

.....

23 - المياه الإقليمية:

.....

24 - بحر تيشس :

.....

25 - الحدود الهندسية :

.....

ثانياً : ماذا تتوقع أن يحدث في حال عدم :

26 - تعرض قارة جندوانا للحركات الانكسارية .

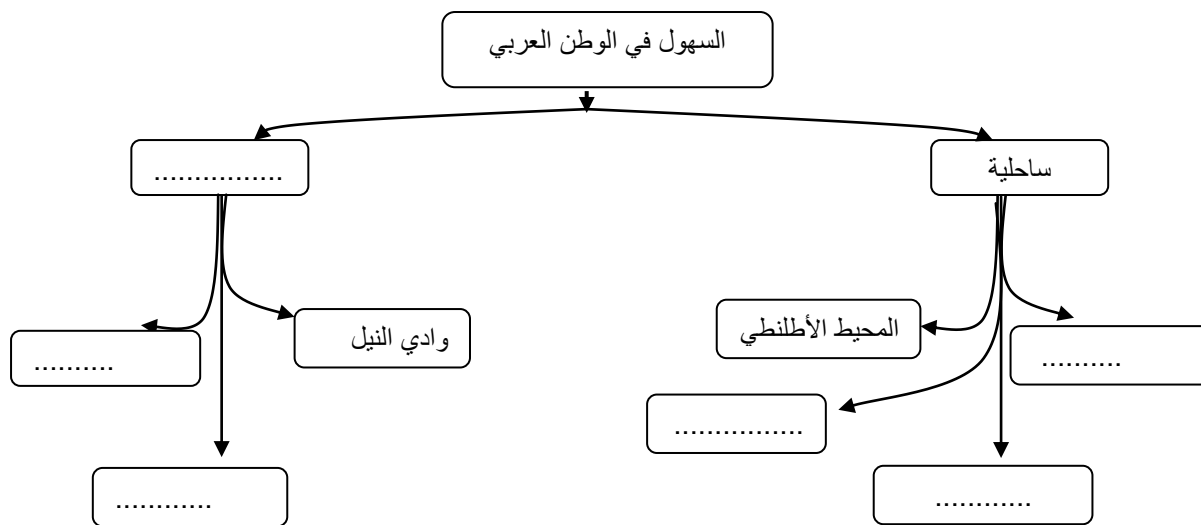
.....

27 - تمتع سماء الوطن العربي بالصفاء وقلة العواصف والغيوم .

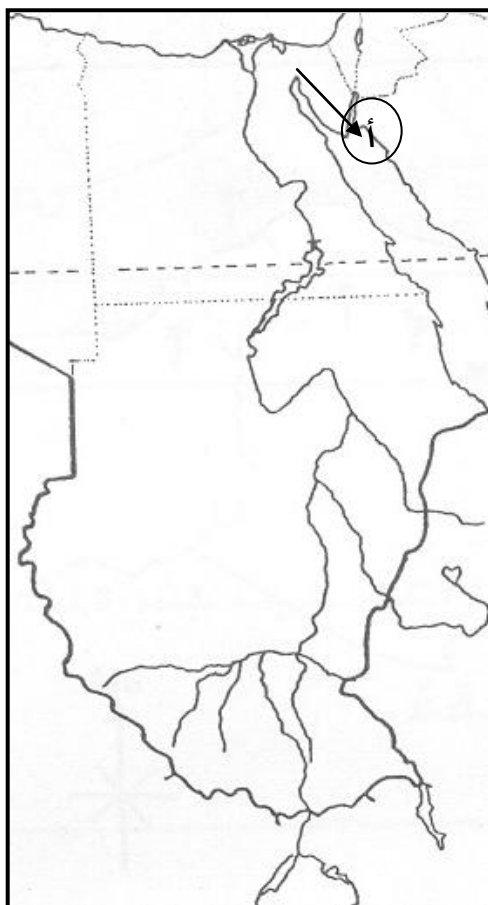
.....

ثالثاً :

28 - أكمل المخطط الذهني الآتي :



29 - حدد على خارطة وادي النيل التي أمامك الظواهر الجغرافية الآتية مع كتابة مسمياتها على الخريطة :



- جبال دارفور.
- منخفض القطارة .
- دولة عربية مجاورة من الغرب .
- قناة السويس .

30 - بم تفسر :

- قلة الموائئ الطبيعية في المنطقة المشار إليها بالحرف ( أ ) على الخريطة التي أمامك .
- ..... -

( انتهت الأسئلة )